


... / ... / 2023	2023-2024 EĞİTİM ÖĞRETİM YILI BİLİŞİM TEKNOLOJİLERİ ve YAZILIM DERSİ 5.SINIFLAR 1.DÖNEM TEKRAR SORULARI			@coderteacher
	ADI	SOYADI	SINIFI	NUMARASI

1. Aşağıdaki klavye kısayollarının ne işe yaradığını yazınız.

- CTRL + O: Dosyayı açma
- CTRL + X:
- CTRL + A:
- CTRL + C:
- CTRL + V:
- CTRL + S:

2. Aşağıdaki dosya uzantılarını inceleyerek hangi tür dosyalara ait olabileceklerini karşlarına yazınız.

- .mp3 - .wav - .aac: Ses dosyası
- .mp4 - .avi - .flv:
- .txt - .doc - .rtf:
- .exe - .bin - .apk:
- .zip - .rar:
- .pdf - .epub:

3. Aşağıda verilen hafıza birimlerini istenen birime çeviriniz.

- 1 B = 8 Bit
- 4096 GB = _____ TB
- 3 MB = _____ KB
- 64 Bit = _____ B
- 2048 MB = _____ GB
- 3072 KB = _____ MB

4. Güvenli bir şifre oluştururken nelere dikkat etmeliyiz, maddeler halinde yazınız.

- En az 8 haneli şifre oluşturmalıyız.
-
-
-
-

5. Aşağıdaki internet adres uzantılarını doğru açıklamaları ile eşleştiriniz.

.edu	Askeri amaçlı siteler için
.mil	Üniversite internet siteleri için
.k12	Resmî kurumlarının siteleri için
.com	İlk, orta ve lise okulları için
.gov	Ticari amaçlı siteleri

6. Aşağıda verilen dijital vatandaşlık boyutlarını uygun tanımlarla eşleştiriniz.

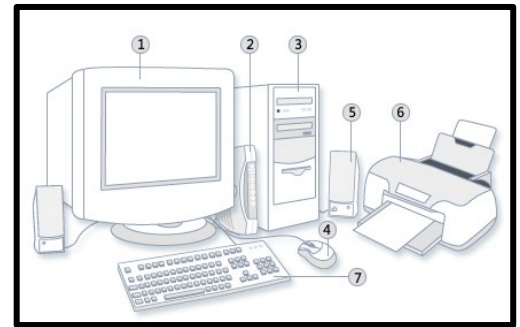
Dijital Güvenlik	Vatandaşların tüm teknolojik imkanlara sahip olması
Dijital Kanun	Elektronik ortamlarda satma ve satın alma yeterliliğine sahip olma
Dijital Erişim	Dijital dünyada hem fiziksel hem ruhsal hem de psikolojik yönden sağlıklı etkileyecek etmenlerin bulunduğu farkında olması
Dijital Sağlık	Sanal dünyada yapılan işlerin elektronik sorumluluğunun olması
Dijital Ticaret	Bireyin sanal ortamda korunmasını sağlayacak önlemleri alması

7. Hangi oturma şekli doğrudur? Altta kutucuğa işaretleyiniz.





8. Aşağıda numaralanmış bilgisayar parçalarının isimlerini yazınız.



1	Monitör (Ekran)
2	
3	
4	
5	
6	
7	

9. Aşağıdaki tabloda ergonomik bilgisayar kullanımı için bazı öneriler verilmiştir. Doğru olan cümlelerin önüne D yanlış cümlelerin önüne Y harfini ekleyiniz.

D	Bilgisayar kullandığımız odayı havalandırmalıyız.
	Bilgisayar kullanırken dik oturmalı, öne eğilmemeliyiz.
	Klavye ve fare farklı hizada olmalıdır.
	Gözlerimizi dinlendirmek için uzak nesnelere bakmalıyız.
	Koltuğa oturduğumuzda ayaklarımız yere basmamalı, havada kalmalıdır.

10. İşletim sistemleri kullanıldığı platforma göre iki kategoriye ayrılır ve bu kategoriler tabloda listelenmiştir. Verilen kategorileri örneklendiriniz.

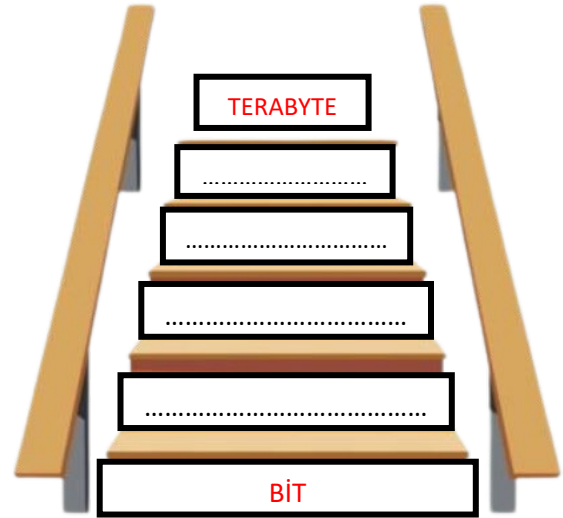
MASAÜSTÜ İŞLETİM SİSTEMLERİ	MOBİL İŞLETİM SİSTEMLERİ
1. Windows	1. Android
2.	2.
3.	3.
4.	4.

11. Aşağıda verilen klavye tuşlarını doğru olduğunu düşündüğünüz tanımların önündeki uygun bölüme yazınız.

CapsLock	Shift	ESC	Enter	Delete
----------	-------	-----	-------	--------

- **Delete:** Silme işlemi için kullanılır. İmlecin sağındaki metinleri siler.
-: Çıkış veya iptal işlemlerinde kullanılır.
-: Tek başına bir fonksiyonu yoktur. Beraberinde bir tuşa basılırsa büyük harf yazmasını sağlar ve tuşların üst bölümlerinde bulunan karakterleri yazmamızı sağlar.
-: Onay verme, kabul etme amaçlı kullanılır. Kelime işlemcilerde paragraf başı yapmak için kullanılır.
-: Büyük veya küçük harf yazmayı sağlar.

12. Hafıza birimlerini küçükten büyüğe doğru altta bulunan basamaklardaki uygun yere yazınız.



13. Ali'nin bilgisayarında 10 GB'lık bir müzik klasörü vardır. Ali'nin arkadaşı Can bu şarkıları kendi bilgisayarında da dinlemek istiyor, bu yüzden bu klasörü bir depolama birimine kaydedip kendi bilgisayarına aktarması gerekiyor.

Can bu müzik klasörünü aşağıda verilen depolama birimlerinden hangilerine kaydedebilir, "X" sembolüyle işaretleyiniz.

4,7 GB	1 TB	16 GB	1,44 MB
<input type="checkbox"/>	<input type="checkbox"/>	<input type="checkbox"/>	<input type="checkbox"/>

14. Aşağıdaki tabloda verilen web sitesi ülke kısaltmalarını ülke isimleriyle belirtildiği şekilde eşleştiriniz.

(E)	.de
(...)	.nl
(...)	.gr
(...)	.uk
(...)	.tr
(...)	.nl
(...)	.it
(...)	.us

A	İngiltere
B	Brezilya
C	Türkiye
D	İtalya
E	Almanya
F	Rusya
G	Yunanistan
H	Hollanda

15. Aşağıdaki tabloda verilen alan ağları türlerini kendilerine uygun olan tanım cümlelerinde eksik bırakılan yerlere yazarak tamamlayınız.

Geniş Alan Ağı (WAN)	Yerel Alan Ağı (LAN)
Kişisel Alan Ağı (PAN)	Metropol Alan Ağı (MAN)

- Bilgisayar aygıtları arasında iletişimi kurmak için kullanılan yakın mesafeli ağa **kişisel alan ağı (PAN)** denir.
- Bir şehir ya da geniş bir bölgede bulunan yerel alan ağlarının birbirine bağlanmasıyla oluşan ağ türüne _____ denir.
- Birbirine yakın mesafedeki; aynı binada veya aynı oda içerisinde bulunan bilgisayarların bağlanmasıyla oluşturulan ağlara _____ denir.
- Birbirine çok uzak mesafedeki bilgisayar veya ağların bağlanmasıyla oluşan ağ türüne _____ denir.

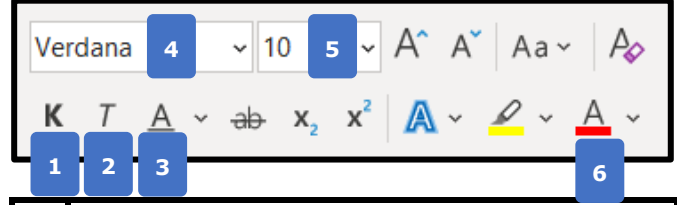
16. Bilgisayar ve sosyal medya kullanımı ile ilgili aşağıda verilen ifadelerden doğru olanın başına "D", yanlış olana "Y" yazınız.

- (Y) Bilgisayarı yanlış bilgiyi yaymak için kullanabiliriz.
- (.....) Şifre belirlerken içerisinde rakam, harf ve özel karakter bulunmasına dikkat etmeliyiz.
- (.....) Özel bilgilerimizi sosyal medyada paylaşmamalıyız.
- (.....) Başkaları adına hesap açıp paylaşım yapabiliriz.
- (.....) Bize ait olmayan videoları kendimizin videosu gibi paylaşabiliriz.

17. Aşağıda verilen bilgisayar ağları konusuna ait temel kavramları kendilerine uygun olacak tanımla eşleştiriniz.

Web Tarayıcısı	İki veya daha fazla bilgisayarın bilgi paylaşımı amacıyla oluşturulan yapısıdır.
E-Posta	Bilgisayarlar aracılığı ile gönderilen elektronik mektuplardır.
Arama Motoru	Dünya çapında yaygın olan ve sürekli büyüyen bir ağıdır.
İnternet	İnternete girmemizi sağlayan yazılımlara verilen genel isimdir.
Bilgisayar Ağı	İnternette arama yapmamızı sağlayan araçlardır.

18. Aşağıda bulunan numaralandırılmış düğmelerin kutuda yer alan görevlerini yazınız.



1	Seçili metni kalınlaştırır.
2	
3	
4	
5	
6	

19. Aşağıdaki tabloda program türleri ve bu türlere örnek verilen programlar karıştırılmıştır. Program türüne uygun olacak şekilde programları karşısındaki türlerle eşleştiriniz.

(5)	İŞLETİM SİSTEMİ	1	Windows Media Player, Gom Player
(...)	MİCROSOFT OFFICE YAZILIMLARI	2	Paint, Corel DRAW, Photoshop
(...)	ANTİVİRÜS, GÜVENLİK YAZILIMLARI	3	İnternet Explorer, Yandex, Google Chrome
(...)	RESİM DÜZENLEYİCİ PROGRAMLAR	4	Ms Word, Ms Excel, Ms Powerpoint
(...)	VİDEO OYNATICILARI	5	Windows 10, iOS Android, Pardus
(...)	İNTERNET TARAYICI PROGRAMLAR	6	Eset Nod32, Kaspersky, Avast, AVG

20. Aşağıdaki tabloda verilen donanım parçalarını uygun tanım cümlelerinin sonundaki bölüme yazınız.

Ekran kartı	Kasa	Hoparlör	Harddisk	İşlemci
-------------	------	----------	----------	---------

- Bilgisayarda tüm işleri yapan ve bilgisayarın beyni olarak bilinen parçadır. (İşlemci).
- Bilgisayarın temel parçalarının içerisinde bulunduğu yerdir. (.....)
- Bilgisayarda verilerin kalıcı olarak depolandığı yerdir. (.....)
- Bilgisayardan ses çıkışının yapılmasını sağlayan cihazdır. (.....)
- Bilgisayarda yapılan tüm işlemlerin görüntülenmesini sağlayan parçadır. (.....)